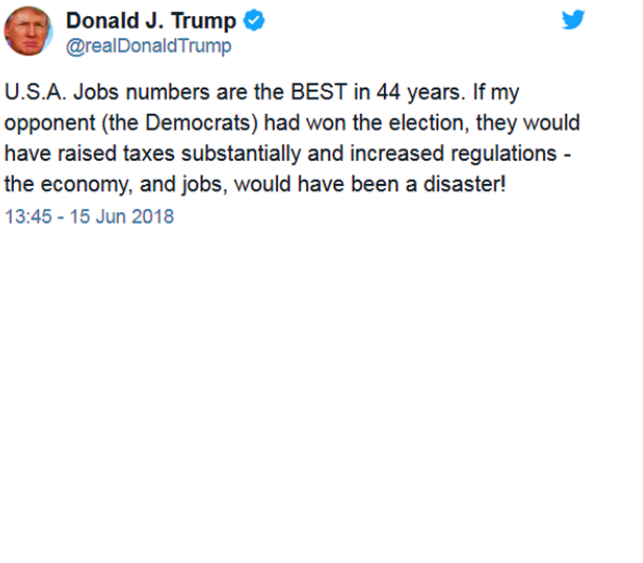

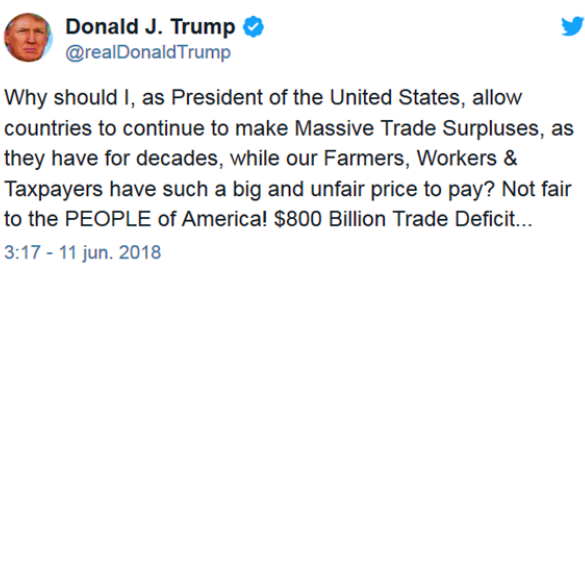

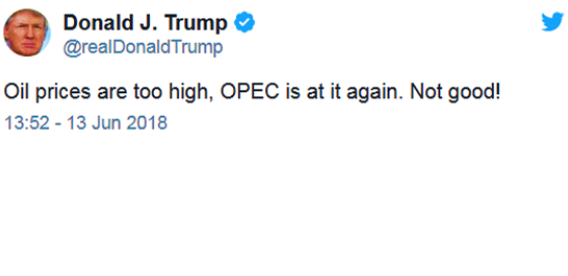


<p>22. [3,5%] Identifica els cinc components estàndards de la demanda agregada i explica, per a cada component, si apujar-lo o reduir-lo faria caure el PIB en el model d'oferta i demanda agregades.</p>	
<p>23. [2,5%] Per què en el mercat de divises on s'intercanvien dòlars per euros la demanda d'euros equival a l'oferta de dòlars?</p>	
<p>24. [9%] En la piulada de la dreta, el president Trump diu: "Les dades d'ocupació dels EUA són les MILLORS en 44 anys. Si els meus oponents del partit demòcrata haguessin guanyat les eleccions [de novembre de 2016], haurien apujat els impostos i aprovat més normes... i el resultat per a l'economia i la creació d'ocupació hauria estat un desastre." <u>Explica amb l'ajuda del model OA-DA si apujar impostos i aprovar normes (per a regular més l'activitat econòmica) té un impacte negatiu sobre PIB i ocupació.</u></p>	 <p>Donald J. Trump  @realDonaldTrump</p> <p>U.S.A. Jobs numbers are the BEST in 44 years. If my opponent (the Democrats) had won the election, they would have raised taxes substantially and increased regulations - the economy, and jobs, would have been a disaster!</p> <p>13:45 - 15 Jun 2018</p>
<p>25. [10%] En la piulada de la dreta, el president Trump diu: "Per què, com a president dels EUA, hauria de permetre que els països continuïn mantenint, des de fa ja dècades, massius superàvits comercials amb nosaltres, a expenses dels nostres pagesos, treballadors i contribuents? Això no és just per a la GENT dels país! 800 miliards de dòlars de dèficit comercial..."</p> <p>(i) Explica si és perjudicial per a un país <u>tenir durant dècades un dèficit comercial considerable.</u></p> <p>(ii) Explica <u>com afectaria al dèficit comercial dels EUA que Trump augmentés els aranzels.</u> I si la resta del món també els apugés?</p>	 <p>Donald J. Trump  @realDonaldTrump</p> <p>Why should I, as President of the United States, allow countries to continue to make Massive Trade Surpluses, as they have for decades, while our Farmers, Workers & Taxpayers have such a big and unfair price to pay? Not fair to the PEOPLE of America! \$800 Billion Trade Deficit...</p> <p>3:17 - 11 jun. 2018</p>
<p>26. [6%] En la piulada de la dreta, el president Trump diu: "El preu del petroli està massa alt. L'OPEP ja hi torna un altre cop. Això no és bo!" Explica <u>en quin sentit un elevat preu del petroli no és bo</u> (si no creus que no sigui bo, explica el perquè).</p>	 <p>Donald J. Trump  @realDonaldTrump</p> <p>Oil prices are too high, OPEC is at it again. Not good!</p> <p>13:52 - 13 Jun 2018</p>

27. [17%] Hi ha dos períodes, 1 i 2. En 1, **M1** és 500. La base monetària és 100. Les reserves són 50. En 2, **M1**, base monetària i reserves dupliquen el seu valor respecte de l'1. En cada període, la velocitat de circulació del diner és el doble del multiplicador monetari. En el període 1, la taxa d'interès nominal és 1%, la taxa d'inflació és 2% i la taxa d'atur és 3%. En el període 2, la taxa d'interès nominal és 3%, la taxa d'atur és 2% i la taxa d'inflació és 1%. Abans de fer cap càlcul, escriu les fórmules o definicions que justifiquen els càlculs.

(i) Per a cada període, calcula el multiplicador monetari, els dipòsits, l'efectiu en mans del públic i els coeficients de liquiditat i reserves.

(ii) Per a cada període, calcula el PIB nominal, el PIB real i la taxa de variació de la quantitat de diner.

(iii) Si, durant el període 1, l'IPC estranger i la taxa de canvi nominal no varien, explica si la taxa de canvi real augmenta, disminueix, es manté constant o si no hi ha prou informació per a saber-ho.

(iv) Amb la informació de (iii), explica si la taxa de canvi de paritat del poder adquisitiu augmenta o disminueix.

(v) Explica si el que passa durant els períodes 1 i 2 contradiu la corba de Phillips.

(vi) Explica si el que passa durant els períodes 1 i 2 contradiu l'efecte Fisher.

28. [3%] Explica un tret en comú i una diferència entre la taxa d'interès i la taxa de canvi. Explica si l'alça de la taxa d'interès fa augmentar o disminuir la taxa de canvi.

29. [9%] Les economies A i B tenen la mateixa moneda.

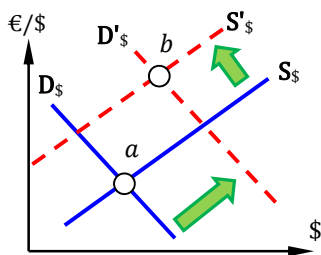
(i) Explica, i il·lustra mitjançant una representació gràfica del model del mercat de liquiditat, l'efecte sobre les taxes d'interès d'A i de B del següent: en A s'executa una operació de mercat obert expansiva, a la qual segueix una fugida de capitals d'A cap a B (aquesta fugida es concreta inicialment en una venda d'actius financers en A i seguidament una compra d'actius financers en B).

(ii) Explica si caldria una operació de mercat obert expansiva o contractiva en B per a aconseguir que la taxa d'interès en B fos la mateixa que en A un cop considerats els esdeveniments de l'apartat (i).

30. [9%] (i) Explica quin mercat es representa en la gràfica de la dreta.

(ii) Explica si en el pas d'*a* a *b* l'euro s'aprecia o es deprecia.

(iii) Proposa un esdeveniment que justifiqui el pas d'*a* a *b* i explica per què l'esdeveniment desplaça les dues funcions de la manera indicada.



31. [9%] Considera les economies A i B.

(i) Explica quina economia té un PIB més gran si el govern d'A implementa una política fiscal expansiva i el de B una política fiscal contractiva.

(ii) Il·lustra mitjançant una representació gràfica del model d'oferta i demanda agregades quin efecte produiria sobre l'equilibri macroeconòmic d'A que l'economia B passés a formar-ne part de l'economia A. Explica els canvis que la integració de B en A causaria en les funcions d'oferta i demanda agregades d'A.